

FEDERAL REPUBLIC OF SOMALIA

GRADE 12 EXAMS, 2022

GEOGRAPHY



OFFICE OF EXAMINATIONS AND CERTIFICATION



INSTRUCTIONS: ANSWER ALL THE QUESTIONS ON THE ANSWER BOOKLET

Weydiinta koowaad: Goobo geli xarafka weedha saxda ah dhammaan weedhaha soo socda (60):		Part (1): Circle the letter of the correct answer (60):	اولا : ضع دائرة حول حرف الإجابة الصحيحة فيما يأتي (60 درجة):
	Somali	English	Arabic
1	<p>Cilmiga quseeyo diraaseynta carrada, Biyaha, dhaqdhaqaaqa dhulka iyo wixii la halmaalo waxaa lagu magaacaabaa:</p> <p>b) jiyoolajiga Handasada t) jiyoolajiga Saliidda j) Jiyoolojiyada waxbarashada x) jiyoolajiga Deegaanka</p>	<p>The scientific study of earth's soil, water and finding solutions to pollution is called:</p> <p>a) Engineering geology b) Petroleum geology c) Educational geology d) Environmental geology</p>	<p>العلم المختص بدراسة التربة، والمياه، والعمل على إيجاد الحلول والعلاجات للمناطق المتضررة من التلوث البيئي هو:</p> <p>(أ) جيولوجية الهندسة . (ب) جيولوجية النفط . (ج) جيولوجية التعليم . (د) جيولوجيا البيئة .</p>
2	<p>Carrada laga helo daltooyinka wabiyada Jubba iyo Shabeelle waxaa loo yaqaanaa:</p> <p>b) Bannaan xeebdeeka t) Dhoobada madow J) Foolkaano x) Nuurad</p>	<p>The type of soil found in the Shabeelle and Jubba river deltas is:</p> <p>a) Coastal soil b) Black clay c) Volcanic d) Lime</p>	<p>التربة التي توجد عند دلات نهري جوبا وشبيلى تعرف:</p> <p>(أ) تربة السهول الساحلية . (ب) تربة السودان . (ج) تربة بركانية . (د) تربة جيرية .</p>
3	<p>Waxaa dhanka bariga kaga began Soomaaliya</p> <p>b) Gacanka Cadmeed t) Baab al Mandal j) Badweynta Hindiya x) Badda Cas</p>	<p>Somalia is bordered on the east by:</p> <p>a) Gulf of Adan b) Bab al Mandal c) Indian ocean d) Red sea</p>	<p>يحد الصومال من الشرق:...</p> <p>(أ) خليج العربي . (ب) باب المنذب . (ج) محيط الهندي . (د) البحر الأحمر</p>



4	Soomaaliya waxaa ay ka kooban tahay _____ gobol. b) 7 t) 12 j) 16 x) 18	Somalia consists of _____ regions. a) 7 b) 12 c) 16 d) 18	تتكون جمهورية الصومال... الأقاليم التالية: أ) 7 أقاليم ب) 12 أقاليم ج) 16 أقاليم د) 18 أقاليم
5	Maxaa lagu magacaabaa buurta ugu dheEr Soomaaliya? b) Surad t) Daallo j) Calmadow x) Buur Hakaba	Which mountain has the highest peak in Somalia? a) Surad b) Daallo c) Almadow d) Buur Hakaba	يعرف أعلى جبل في جمهورية الصومال جبل: أ) جبل سورت ب) جبل داله ج) جبل عل مدوه . د) بور هكبه
6	Wax soosaarka ugu muhiimsan ee ay Soomaalidu dhoofiso waa: b) Kabaha t) Dharka j) Miraha x) Xoolaha	The most important commodity which Somalia exports is: a) Shoes b) Clothes c) Fruits d) Livestock	أهم الصادرات الصومالية هي: أ) القطن . ب) الملابس . ج) الثمار . د) المواشي.
7	Dekedda ugu shaqada iyo dakhliga badan ee dalkeenna waxa ay ku taallaa magaalada: b) Marko t) Baraawe j) Muqdisho x) Kismaayo	The busiest seaport which also generates the most revenue is located in: a) Marka b) Barawe c) Mugadisho d) Kismayo	أكثر ميناء من حيث نشاط التجاري في الصومال ... هي: أ) ميناء مركه . ب) ميناء براوه . ج) ميناء مقديشو . د) ميناء كسمايو .
8	Kororka dadka ee ka sarreeyo ilaha dhaqaale ee dal uu leeyahay ayaa la yiraahdaa: b) Taran jooksi t) Taran qulub j) Tarah fatah x) Taran xir	A population growth which exceeds the natural resources of a country is called population: a) Stagnation b) Equilibrium c) Explosion d) Deficit	نمو السكان المرتفع يعرف: أ) نمو مستمر ب) نمو متقلب ج) إنفجار سكاني د) نمو متوقف .



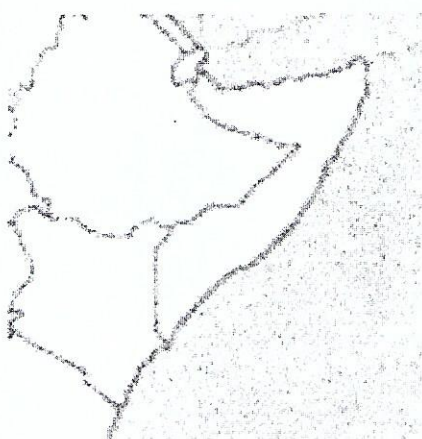


9	<p>Maxaa loo yaqaanaa qeyb ama koox loo soo qaato in ay metesho bulsho la tirokoobay si loo baaro ama loo diraasadeeyo?</p> <p>b) Lakab bulsheed t) Muunad j) Koox hawleed x) Urur</p>	<p>A group of people or items selected randomly to represent a population is called:</p> <p>a) Strata b) Sample c) Unit d) Universe</p>	<p>مجموعة من المجتمع لتطبيق المجتمع ككل... تعرف</p> <p>(أ) غلاف المجتمع . (ب) العينة . (ج) فريق العمل . (د) مجموع</p>
10	<p>Waa maxay cilmiga la xiriira uruurinta, nidaaminta iyo soo bandhigidda nidaamsan ee xogaha bulsho?</p> <p>b) Tirokoob t) Maamul bulsho j) Maamulka iyo maareynta x) Cilmibaaris</p>	<p>The first source from which a population's number, distribution and other characteristics are obtained is:</p> <p>a) Census b) Statistics c) Geography d) None of the above</p>	<p>من مصادر جمع المعلومات السكانية ... تسمى:</p> <p>(أ) تعداد السكان. (ب) نظام الاجتماعي. (ج) نظام الإداري. (د) البحث العلمي.</p>
11	<p>Xuduudaha ay asteeyaan buuraha, webiyada iyo badaha waxaa loo yaqaanaa:</p> <p>b) Xuduud dabiici ah t) Xuduud ilbaxnimo j) Xuduud handasi ah x) Xuduud keymo</p>	<p>The type of border which is marked by mountains, rivers and seas is called:</p> <p>a) Natural border b) Human border c) Continental border d) All of the above</p>	<p>الحدود التي ترسم على أساس الجبال، والأنهار، والبحيرات ... تسمى:</p> <p>(أ) حدود الطبيعية . (ب) حدود الحضارية. (ج) حدود الهندسية . (د) حدود الوهمية.</p>
12	<p>Gumeystaha ku caawiyay Itoobiya in ay gacanta ku dhigto Soomaali Galbeed waa:</p> <p>b) Talyaaniga t) Ingiriisiga j) Faransiiska x) Boortaqiiska</p>	<p>Which colonial power assisted Ethiopia in annexing western Somalia?</p> <p>a) Italy b) England c) France d) Portugal</p>	<p>الدول التي ساعدت على احتلال إثيوبيا إقليم الصومال الغربي... هي:</p> <p>(أ) إيطاليا (ب) بريطانيا (ج) فرنسا (د) برتغال</p>
13	<p>Waxyaabaha sababo sameysanka sohadin siyaasadeedka waxaa ka mid ah:</p> <p>b) Gumeystaha t) Ciyaaraha j) Socdaalka x) Dhammaan</p>	<p>Among the factors which led to the establishment of borders is:</p> <p>a) Colonialism b) Sports c) Immigration d) All of the above</p>	<p>يرجع أسباب نشأة الحدود السياسية الحديثة بين الدول... إلى:</p> <p>(أ) دول الاستعمارية. (ب) الرياضة. (ج) هجرة السكان . (د) الجميع.</p>



14	<p>Tilmaamaha cimilada gobollada kulul waxaa ka mid ah:</p> <p>b) Heerkulka oo sarreeyo sanadka oo dhan</p> <p>t) Heerkul sare xiliga xagaaga, qabow daran xiliga jiilaalka</p> <p>j) Qalleyl xiliga xagaaga, diirimaad roob leh xiliga jiilaalka</p> <p>x) Dhex-dhexaad xiliga xagaaga, qabow xiliga jiilaalka</p>	<p>The following is a characteristic of tropical regions:</p> <p>a) High temperatures all year long.</p> <p>b) High temperatures during summer and very cold during the winter</p> <p>c) Dry during the summer and warm temperatures with rain in the winter</p> <p>d) Moderate temperatures during the summer and cold during the winter</p>	<p>الأقاليم المناخية في العالم... هي:</p> <p>(أ) ارتفاع درجة الحرارة طول العام.</p> <p>(ب) ارتفاع درجة الحرارة في الصيف، وانخفاض درجة الحرارة في الشتاء.</p> <p>(ج) جفاف في الفيصل، دفء المطير في الشتاء.</p> <p>(د) الجو المتوسط في الصيف، والبرود في الشتاء.</p>
15	<p>Heerkulka dunida oo kordha waxaa sababo:</p> <p>b) Wasakhowga carrada</p> <p>t) Kalluumeysiga badan</p> <p>j) Adeegsiga shidaalka dhulka laga qodo</p> <p>x) Wasakhowga biyaha</p>	<p>One of the causes of increased temperatures is:</p> <p>a) Soil degradation</p> <p>b) Increased fishing</p> <p>c) Use of fossil fuels (oil and gas)</p> <p>d) Water degradation</p>	<p>يرجع سبب ارتفاع درجة الحرارة في العالم إلى... أسباب:</p> <p>(أ) تلوث التربة.</p> <p>(ب) صيد الاسماك المرتفع.</p> <p>(ج) اسغلال البترول.</p> <p>(د) تلوث المياه.</p>
16	<p>Biyaha wasakheysan waxaa ay halis ku yihiin:</p> <p>b) Dhismayaasha</p> <p>t) Caafimaadka aadanaha</p> <p>j) Gaadiidka</p> <p>x) waddooyinka</p>	<p>Unclean water is dangerous to:</p> <p>a) Buildings</p> <p>b) Human health</p> <p>c) Cars</p> <p>d) Roads</p>	<p>يهدد خطر المياه الملوثة:</p> <p>(أ) البنى التحتية.</p> <p>(ب) الصحة الاجتماعية.</p> <p>(ج) النقل العام.</p> <p>(د) الطرق</p>
17	<p>Dalalka dunida ugu caansan dalxiiska waxaa ka mid ah:</p> <p>b) Turkiga</p> <p>t) Soomaaliya</p> <p>j) Kiiniya</p> <p>x- Angoola</p>	<p>Which of the following country is a popular destination for tourists?</p> <p>a) Turkey</p> <p>b) Somalia</p> <p>c) Iraq</p> <p>d) Angola</p>	<p>من الدول المعروفة عالميا بنشاط السياحة ...:</p> <p>(أ) تركيا.</p> <p>(ب) الصومال.</p> <p>(ج) كينيا.</p> <p>(د) أنغولا</p>



18	Wabiga duniga ugu dheer waa: b) Jubba t) Niil j) Furaat x) Congo	What is the longest river in the world? a) Jubba b) Nile c) Euphrates d) Congo	سَمِ نَهْرٍ فِي الْعَالَمِ ... هُو: (أ) نَهْرُ جُوبَا. (ب) نَهْرُ النَّيْلِ. (ج) نَهْرُ الْفِرَاتِ. (د) نَهْرُ الْكُونْغُو.
19	Wabiga Jubba waxa uu ku biyo shubaa badweynta: b) Hindiya t) Atlaantikada j) Baasifigga x) Artikga	The Jubba River in Somalia joins with the _____ ocean. a) Indian b) Atlantic c) Pacific d) Arctic	يَصْبُ نَهْرُ جُوبَا فِي: (أ) الْمَحِيطِ الْهِنْدِيِّ. (ب) الْمَحِيطِ الْإِطْلَاسِيِّ. (ج) الْمَحِيطِ الْهَادِيِّ. (د) الْمَحِيطِ الْقُطْبِيِّ.
20	Jiidaha kalluumeysiga ee Soomaaliya waxaa ka mid ah: b) Marka iyo Kismaayo t) Badhan iyo Dhahar j) Luuq iyo Doolow x) Xuddur iyo Waajid	Fishing zones in Somalia are found in: a) Marka and Kismayo b) Badhan and Dhahar c) Luq and Dolow d) Huddur and Wajid	مِنْ مَنَاطِقِ الصَّيْدِ فِي الصُّومَالِ: (أ) مَرْكََا وَكَيْسَمَايُو. (ب) بَطْنُ وَطَهْرٍ. (ج) لُوُوقُ وَدُولُو. (د) حُدْرُ وَوَايْدُ.

Weydiinta Labaad: Kajawaab su'aalaha soo socdo (40):		Part:2: Answer the following questions (40):	ثانياً: أجب عن الأسئلة الآتية: (40)
21	Somali	English	Arabic
	Qeex cilmiga Jiyoooloojiga.	Define geology	وضح مفهوم علم الجيولوجيا.
22	Ku muuji khariidadda hoos ku sawiran dalka Soomaaliya iyo dalalka dariska la ah. 	On the map below, label (write) Somalia and the neighboring countries 	بين على الخريطة الصماء التالية: أسماء الصومال ودول الجوار معها 



23	Sharrax ahammiyadda ay inoo leedahay baddu.	Explain the importance of the sea	أهمية البحار لحياة الإنسان
24	Tilmaan ahammiyadda istaraatiijiyadeed ee dhulka Soomaaliya.	Describe the strategic location of Somalia	بين الأهمية الاستراتيجية الجغرافية لبلاد الصومال
25	Caddee caqabadaha ku hor gudban tirokoobidda dadka Soomaaliyeed.	Determine the barriers inhibiting the conduct of a census in Somalia.	وضح المعوقات التي تقف أمام إجراء تعداد سكان الصومال
26	Adiga oo tixraacaayo qaabdhismeedka da'da dadka Soomaaliyeed, tilmaan kooxda (ama da'da) ugu tiro badan.	Referring to the composition of Somalia's population in terms of age, identify the largest group.	بناء على التركيب العمري لسكان الصومال اذكر الفئة الأكثر من فئات المجتمع
27	Isbarbardhig caqabadaha heysta waaxyaha kalluumeysiga iyo beero qodashada soomaaliyeed.	Compare challenges facing the fishing and farming sectors in Somalia.	قارن بين عقبات استغلال صيد الأسماك، والاستغلال الزراعي في الصومال
28	Tilmaan sababaha dadka ay uga soo hijroodaan/socdaalaan miyiga iyaga oo aadaya magaalooyinka	Describe the reasons behind rural to urban migration	بين الأسباب التي أدت إلى هجرة السكان من القرى والريف إلى المدن
29	Caddee ilaha ay ka yimaadaan biyaha ku jiro dhulka guntiisa hoose.	Identify the sources of underground water.	وضح مصادر المياه الجوفية
30	Ka faalloo siyaabaha loo yareyn karo jaridda dhirta loo adeegsado dhuxusha	Analyze ways in which cutting trees for charcoal can be reduced.	تحدث عن عن طرق تقليل النباتات المستخدمة للفحم